



نمایندگی شهرستان :






- ✓ شامل تمامی دروس
- ✓ جبران عقب ماندگی های دوران کرونا
- ✓ آمادگی دانش آموز برای سال تحصیلی جدید
- ✓ لوح های جشن و پایان دوره سه بعدی و معمولی

تخفیف ویژه



تاجکستانه های پیش تا پنجم ۵۹ هزار تومان  
 تاجکستانه های ۷۲ صفحه ای ۴۶ هزار تومان  
 تاجکستانه ششم ۵۰ هزار تومان  
 فیتیله های تابستان ۵۴ هزار تومان



نمایندگی شهرستان



هر تصویر را به جمله ی مربوط به آن وصل کن.

- لانه ی خود را با استفاده از چوب های کوچک با نوک خود می سازد.
- به بچه ی خود شیر می دهد.
- خانه ی خود را زیر خاک می سازد.
- بچه ی خود را درون کیسه نگه می دارد.



مراحل چرخه ی زندگی کرم ابریشم را شماره گذاری کن.

- یک تخم کوچک
- کرم ابریشم دور خود پیله درست می کند.
- کرم ابریشم از تخم بیرون می آید و برگ می خورد.
- پروانه از پیله خارج می شود.
- پروانه ی بالغ تخم گذاری می کند.

مراحل زندگی لاک پشت را به ترتیب شماره گذاری کن.



خواننده ی کوچک ، داستان زیر را بخوان و به سوال ها پاسخ بده.

من یک خواهر ناز و کوچولو به نام فاطمه دارم، مادرم **شب** ها اورادر گهواره اش می گذارد و برای او لالایی می خواند. یک روز به مادرم گفتم: مامان **خیلی** حوصله ام سر می رود کاش فاطمه زودتر بزرگ می شد. **نسی** دانی چقدر دلم می خواهد با او بازی کنم. مادرم در حالی که به اتاق دیگری **رفت** تا عکس های نوزادی ام را بیاورد با لبخند گفت: عجله نکن فاطمه کم کم بزرگ می شود. تو حالا می توانی در **مراقبت** از او به من **کمک** کنی ، تو هم هفت سال پیش **مثل** او کوچک بودی. از آن پس تصمیم گرفتم **هر وقت** از مدرسه برگشتم از او مواظبت کنم.

الف: عزیز دلم در داستان بالا مخالف کلمه هایی که در شکل مربع قرار دارد را بنویس.

ب: دلبندم هم معنی کلمه هایی که داخل دایره قرار دارد را بنویس.

کلمات مربوط به هم را به یکدیگر وصل کن.

● آهنگ ساز

● سبزی فروش

● کلید ساز

می سازد

می فروشد

● میوه فروش

● پارچه فروش

● دارو ساز





کوجولوی باهوش: بگو من چه عددی هستم؟

رقم یکان من ۵ رقم دهگان من ۷ : .....

رقم صدگان من ۱ رقم دهگانم ۴ و رقم یکانم ۳ است. من ..... هستم.

عددی دو رقمی هستم که رقم یکان من ۵ و رقم دهگان من ۱ است. من ..... هستم.

عددی دو رقمی هستم که رقم یکان من ۳ و رقم دهگان من ۵ تا بیشتر از یکانم است. من ..... هستم.

عددی بنویس که صدگان آن ۵، دهگان آن ۶ و یکان آن ۴ تا کمتر از دهگان آن است: .....


دلبندم، عددهای زیر را از کوچک به بزرگ مرتب کن و داخل گل ها بنویس:

۳۵ - ۱۱۲ - ۹۸ - ۶۴ - ۷۸ - ۱۰۰ - ۱۲۱ - ۸۷ - ۱۰۴



جدول شگفت انگیز زیر را با دقت حل کن (گل من حواست باشه عدد تکراری ننویسی)

	۳			۹		۷	۴
۲		۷	۴	۱	۶	۵	۳
۸			۳			۱	۹
	۲	۱	۷		۵	۶	۸
	۶			۴	۱		۹
۵	۷		۶			۴	۱
۹			۵		۴	۳	۱
۷			۱	۶	۸	۹	
	۱		۹	۳		۸	۴



قشنگم این خانم کوچولو می خواهد وسایل شخصی خود را اندازه گیری کند. به نظر شما کدام یک از وسایل زیر برای اندازه گیری مناسب تر است؟ آن را علامت بزن.



هزار آفرین بر شما بهترین وسیله را برای اندازه گیری انتخاب کردی. حالا به همراه او وسایل را با خط کش اندازه بگیر و کنار آن بنویس.



۶۷

.....

.....

.....

.....

جاهای خالی را کامل کن.



\* اندازه طول ساعت ..... قسمت بزرگ و ..... قسمت کوچک است. یعنی .... سانتی متر و .... میلی متر



\* اندازه ی طول مداد .... قسمت بزرگ و .... قسمت کوچک است. یعنی .... سانتی متر و ... میلی متر



\* اندازه ی طول ماهی ... قسمت بزرگ و ... قسمت کوچک است. یعنی .... سانتی متر و .... میلی متر






کوجولوی ناز، تصاویری که سایه ی پررنگ تری ایجاد می کنند را علامت بزنی.



نقاش کوجولو با توجه به سایه ی ایجاد شده خورشید را در جای مناسب نقاشی کن.



از بین تصاویر زیر آن هایی را که چشمه ی نور طبیعی هستند علامت بزنی.



دلبندم، عددهای زیر را به حروف بنویس.

۱۱۸ .....

۴۲۶ .....

۳۷ .....

۸۷ .....

۶۱۱ .....

هفتاد و چهار.....

دویست و نود و نه .....

شصت و چهار .....

صد و هفده .....

ششصد و پنجاه و هشت.....

عددهای قبل و بعد روی هزارها را پیدا کن تا بتوانند به راه خود ادامه دهند و به خانه برسند.

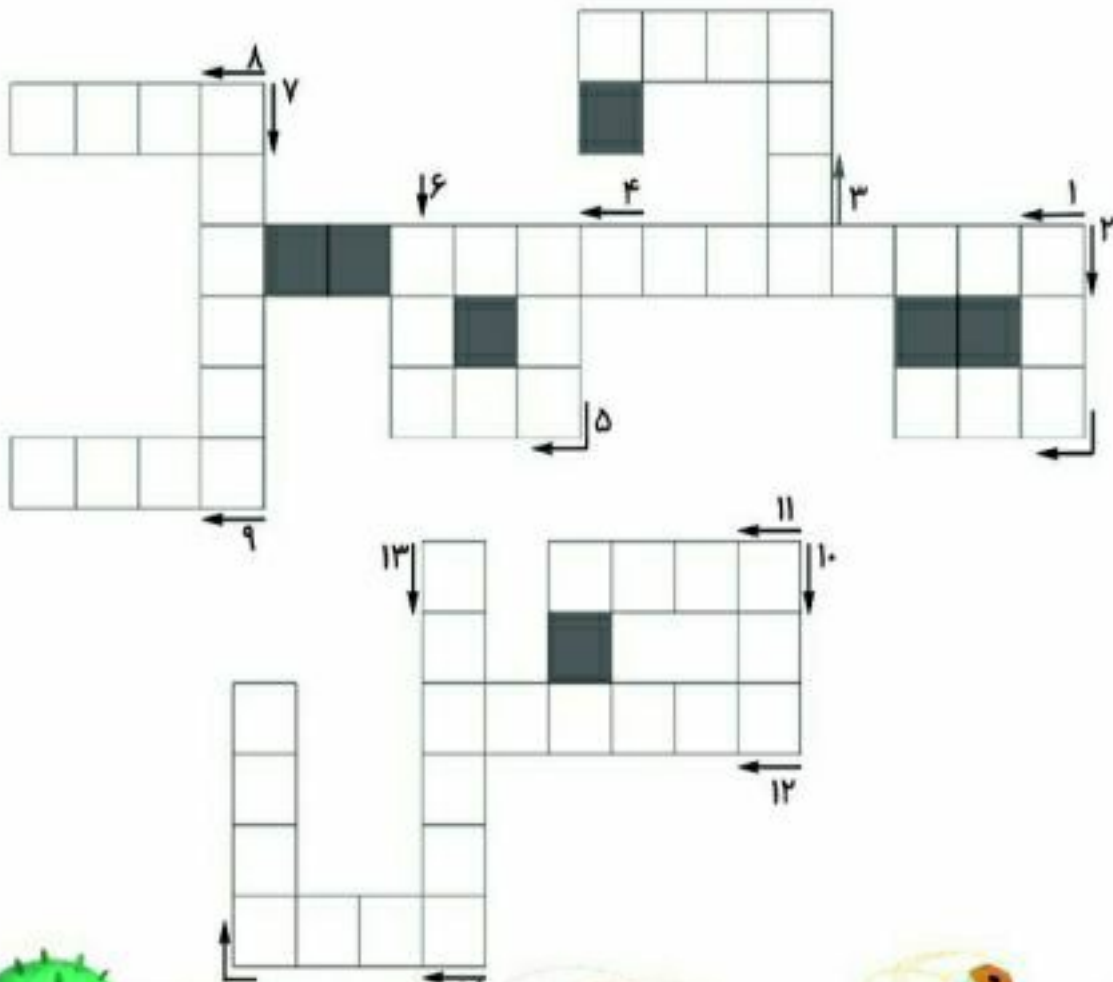




عزیز دلم دوست داری با هم جدول حل کنیم.



- ۱- لقب حضرت محمد(ص)
- ۲- یکی از نام های پیامبر
- ۳- از پیامبران بزرگ خداست
- ۴- در آن با خدا حرف می زنیم
- ۵- نام امام هفتم
- ۶- امام رضا(ع) با آن مسموم شد
- ۷- معنی "الرحمن"
- ۸- مؤذن پیامبر
- ۹- نام دیگر نعمت های خدا
- ۱۰- مهربان تر از مادر
- ۱۱- لقب حضرت ابراهیم
- ۱۲- خانواده ی پیامبر
- ۱۳- اولین کار در وضو
- ۱۴- جایی که در آن وضو می گیریم



## وضو

با یاد خدا می گیرم وضو  
دست و پاهایم صورت و مویم  
گردی صورت حالا می شویم  
حالا نویت شستن دست هاست  
از روی آرنج تا سر انگشت  
مثل دست راست، دست چپم را  
می کشم یک بار، دست ترم را  
بعد از مسح سر، مسح هر دو پاست  
جای مسح پا، انگشت تا مچ است  
با دست راستم روی پای راست  
آماده هستم برای نماز

نیت می کنم از برای او  
می کنم تمیز پیش از وضویم  
بالا به پایین از زیر مویم  
اول کدوم دست، اول دست راست  
می شویم با آب یک مشت و دو مشت  
بالا به پایین می شویم حالا  
جلوی مویم مسح سرم را  
اما به ترتیب، اول پای راست  
پایین به بالا، می کشم با دست  
این پای چپم، پای چپ اینجاست  
با یاد خدا می کنم آغاز

این آقا کوچولو می خواهد وضو گرفتن را یاد بگیرد، با شماره گذاری تصاویر به او کمک کن تا درست وضو بگیرد.



برای کدام یک از کارهای زیر باید وضو داشته باشیم؟ آنها را علامت بزن.

- نماز خواندن
- قرآن خواندن
- درس خواندن
- حرم رفتن
- غذا خوردن





غنچه ی شاداب زنبور هارا به گل های هم معنی خودبرسان تا بتوانند عسل بیشتری جمع کنند.



کوچولوی باهوش به جای کلمه داخل کمانک، کلمه هم معنی مناسب را قرار بده و جمله را

دوباره بنویس.

(مراقبت - پاسخ داد - خلق کرده است - آغاز - کوشش - پاکیزه - سوال کرد - اول)

زها از مادرش (پرسید)؟

خدای مهربان همه چیز را (آفریده است).

من همیشه (تلاش) می کنم از آنچه دارم به دوستانم بدهم.

هوای روستا بسیار (تیز) است.

ما هر کاری را با نام خدا (شروع) می کنیم.

من همیشه از دندان های خود (مواظبت) میکنم.



کوکچولوی زرنگ، هر کدام از ماهی های زیر کلماتی را به همراه دارند، آنها را با دقت بخوان و هر کدام را که میتوان با «هم» جمع بست، رنگ کن.



نوگلم، از بین کلمات زیر کلماتی که حرف آخر آنها مثل هم است را پیدا کن و در ستون های جداگانه بنویس:

«وضو . لانه . پاکیزه . موضوع . ایستاده . حیاط . استفاده . کاغذ . محله . لذیذ . خطاط . شروع . دم پنبه ای . لحظه ای . پرستو . آهسته . خوشمزه ای . دارو . طلوع»

.....	.....	.....	.....	.....	.....	.....
.....	.....	.....	.....	.....	.....	.....
.....	.....	.....	.....	.....	.....	.....

کودک باهوشم، برای هر یک از حرف های داده شده دو کلمه بساز.

ض	ذ	ظ	ز	ص	ث
.....	.....	.....	.....	.....	.....
.....	.....	.....	.....	.....	.....





دانشمند کوچولو، ماه و خورشید را در جای خود قرار دهید.



کوچولوی پرتوان، به سوال های زیر با دقت جواب بده.

- شب و روز چگونه به وجود می آید؟

.....

- هر سال چند فصل دارد؟ نام فصل ها را بنویسید

.....

- کدام یک از فصل ها را دوست داری؟ چرا؟

.....

- اکنون در چه فصلی از سال هستیم؟ این فصل چند ماه دارد؟ نام ماه های آن را بنویس.

.....

- عزیزم می دانی هر ماه چند روز دارد؟

- یک فصل از سال را که دمای هوای آن مخالف دمای هوای فصلی است که در آن هستی

را نام ببر و نقاشی آن را بکش.

.....



عزیزم به آپارتمان جمع و تفریق خوش آمدی. حاصل جمع و تفریق های زیر را بدست بیاور تا بفهمی در هر طبقه از این آپارتمان چند نفر زندگی می کنند.

<span style="font-size: 2em;">⌘</span> <span style="font-size: 2em;">⌘</span>				
$7+8$	$8-4$	$3+4$	$12-9$	= ..... نفر
$12-10$	$13-8$	$10+5$	$25+7$	= ..... نفر
$12-8$	$8+5$	$16-9$	$19+9$	= ..... نفر
$6+3$	$19-17$	$15+2$	$27-8$	= ..... نفر
	● ●			

حالا که فهمیدی در هر طبقه چند نفر زندگی می کنند می توانی بگویی در کل این آپارتمان چند نفر زندگی می کند؟  
 عزیزم در طبقات این آپارتمان چه الگویی وجود دارد آن را بنویس و ادامه بده.












فرشته ی کوچولو با شنیدن هر کدام از نام های زیر به یاد چه کار خوبی از آن ها می افتی؟ 


پیامبر اکرم (ص)

حضرت فاطمه (س)


امام علی (ع)

امام حسن (ع)

امام حسین (ع)

جاهای خالی را در مورد حضرت مهدی (عج) کامل کن. 



کلم جمله ی زیر را ادامه بده. 

ای امام زمان من .....



جدول زیر را کامل کن.

ما	ایشان	او	شا	تو	من	
			رفتید	رفتی	رفتم	رفت
						دید
						گذشت
						خواندن

کلمه های زیر را مرتب کن و جمله های زیبا بنویس.

است . فصل . میوه های . و . گرما . آبدار . تابستان . خوش مزه و

تشکر . خدا . نعمت های . استفاده . برای . کنیم . بهتر . از . است . درست . آن ها . از

نویسنده ی کوچولو ، داستان زیر را ادامه بده .

وقتی زنگ مدرسه خورد ، مثل هر روز با عجله به سمت خانه رفتم . وقتی پشت در رسیدم خواستم با کلید در را باز کنم که متوجه شدم کلید در کیفم نیست . زنگ در را زدم ولی کسی در را باز نکرد . میخواستم زنگ خانه ی همسایه را بزنم که دیدم

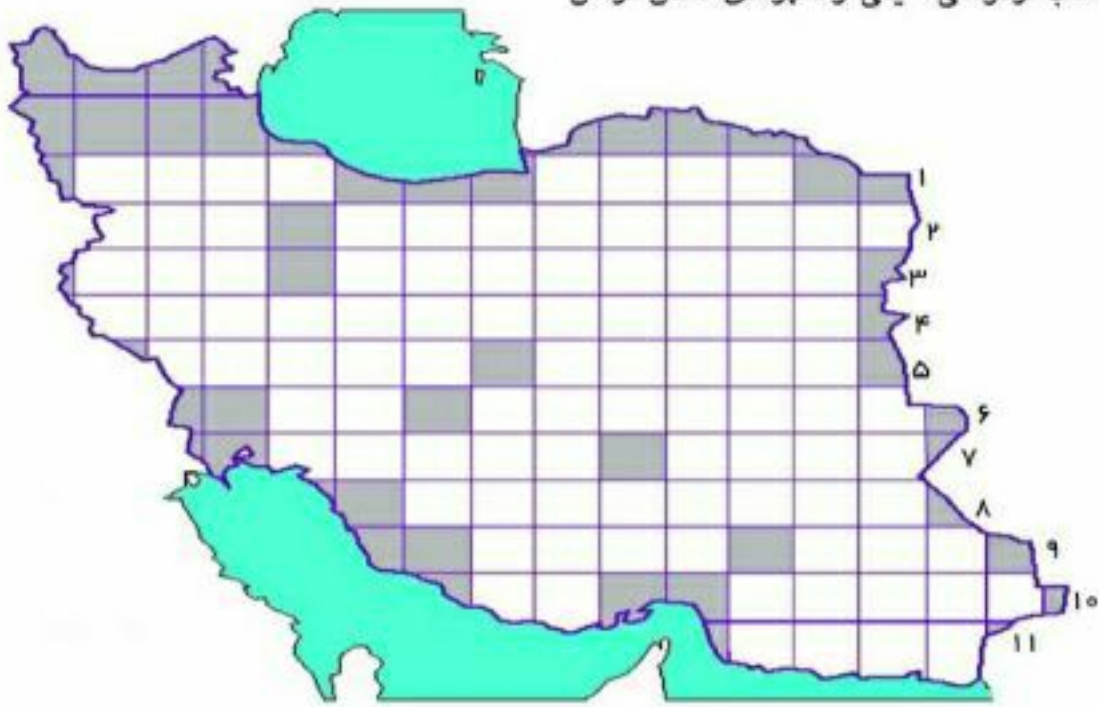






جدول جدول

- |  |  |
|--|--|
| ۱. هم معنی آفریننده - یار مهربان           | ۷. نشانه ی هرکشور - نام دیگر پارچه فروشی |
| ۲. روز ولادت امام زمان - مخالف شب          | ۸. راز خوشبختی به گفته ی پیامبر(ص)       |
| ۳. لقب رسول اکرم (ص) - دختر نیست           | ۹. هم معنی سریع - شهر امام هشتم          |
| ۴. چراغ نظم و ترتیب در خیابان              | ۱۰. شهر پیامبر - بزرگ ترین عدد یک رقمی   |
| ۵. نام کشور ما - هدیه مخصوص هر شهر         | ۱۱. مخالف سالم                           |
| ۶. کتاب فردوسی - یکی از شهرهای استان کرمان |  |



پسر همسایه ما می گوید: پرنده های خانه ما بیش تر از دوتا هستند و همه به جز دوتا قناری هستند ؛  
همه به جز دوتا طوطی هستند و همه به جز دوتا مرغ عشق هستند.  
همسایه ی ما چند پرنده دارد؟ نام آن ها چیست؟



هر خوراکی را در دسته ی خود قرار بده.

از گیاهان بدست می آید	از جانوران بدست می آید

نان . شیر . کره . برنج  
عسل . مربای هویج  
پنیر . گردو

عزیزم جاهای خالی را کامل کن.

به تمام چیزهای اطراف ما ..... می گویند.  
خوردن ..... کمک می کند که استخوان ها و دندان های ما خوب رشد کند.  
شکلات یک ماده ی ..... است که در اثر گرما تبدیل به ..... می شود.  
با تقلیک زباله به حفظ ..... کمک می کنیم.

هر یک از موارد زیر بهتر است در کجا نگه داری شود؟



جای سرد  
(فریزر)

جای خشک  
(کابینت)

جای سرد و خشک  
(یخچال)





زباله ها را به سطل مخصوص خود وصل کن.



از بین مواد زیر کدام یک در تماس با مواد دیگر تغییر می کند، مربع کنار آن ها را رنگ بزن.



دین اسلام به ما سفارش می کند وقتی یکدیگر را می بینیم اول سلام کنیم بعد حرف بزنیم.  
معمولا اول کوچک ترها به بزرگ ترها سلام می کنند و با این کار به آن ها احترام می گذارند. اما پیامبر مهربان ما  
همیشه زودتر به دیگران و حتی بچه ها سلام می کرد.  
خداوند در قرآن به پیامبر می فرماید وقتی مومنان پیش تو می آیند بگو: (قُلْ سَلَامٌ عَلَیْكُمْ) معنی این آیه چیست؟

سخن امام حسین (ع) را درباره ی سلام کردن کامل کن.  
امام حسین (ع) فرمودند: سلام کردن ..... پاداش دارد ..... پاداش برای کسی که سلام می کند و  
..... پاداش برای کسی که جواب سلام را می دهد.

هر نماز را به تعداد رکعت های خودش وصل کن.

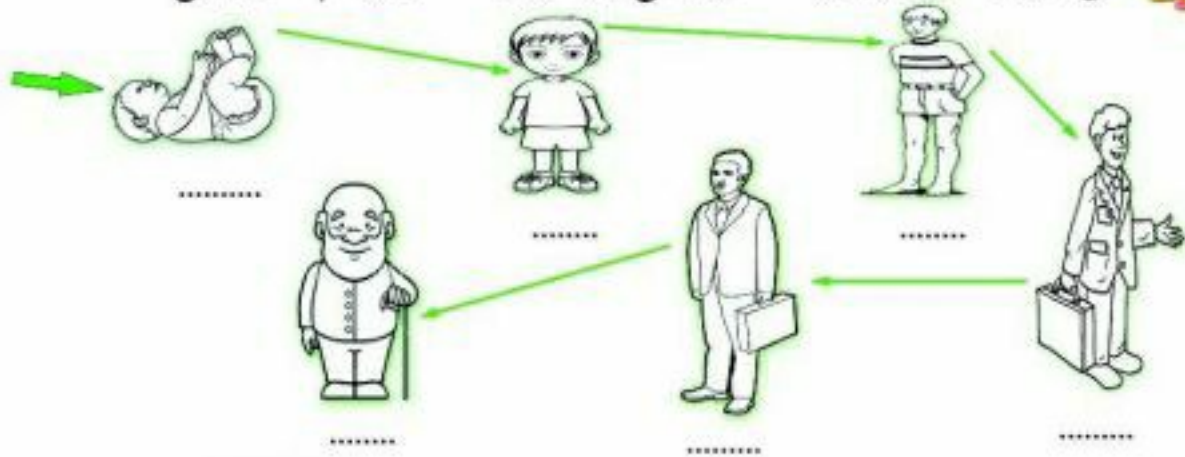
نماز عصر	نماز عشاء	نماز مغرب	نماز صبح	نماز ظهر
۴ رکعت	۳ رکعت	۲ رکعت		

آیا می دانی نماز قضا شد یعنی چه؟  
هنگامی که وقت یکی از نمازها به پایان می رسد می گویند نماز قضا شد. مثلا اگر نماز صبح در زمان  
خود یعنی از اذان صبح تا طلوع آفتاب خوانده نشود نماز صبح قضا شده است.  
حالا بگو بینم می دانی وقت نماز ظهر و عصر چه موقع است؟





نقاش کوچولو تصاویر زیر را رنگ آمیزی کن و مراحل رشد انسان را نام گذاری کن.



هر کودک ابتدا دندان شیری درمی آورد و از ۶ سالگی دندان های شیری او شروع به افتادن می کنند دندان های دانی او درمی آید و این یکی از نشانه های رشد در دوران کودکی است.  
- دلبندم می دانی هر کودک چند دندان شیری و چند دندان دانی دارد؟

..... دندان شیری و ..... دندان دانی

- برای این که دندان ها سالم بمانند چه کارهایی باید انجام دهیم؟

برای این که بدن ما خوب رشد کند چه کارهایی باید انجام دهیم آن ها را علامت بزن.

نقاشی کشیدن

به موقع خوابیدن

خوردن شیر و لبنیات

مسواک زدن

خوردن غذای مقوی

خوردن پنک و چیس

ورزش کردن

خوردن شیرینی و شکلات

